











Die gezeigte Lösung ist die einzige Variante – du kannst die Aufgabe nicht anders lösen.



Mady war einen Tag lang im Meer tauchen und hat dabei einiges unter Wasser gesehen. Zähle, was sie alles entdeckt hat und schreibe die Anzahl in die Kästchen:

								
6	5	7	10	3	8	4	2	1